

Документ подписан простой электронной подписью
Информация о владельце:
ФИО: Тарасов Игорь Владимирович
Должность: Профессор по учебной работе
Дата подписания: 24.05.2022 15:45:14
Уникальный программный ключ:
8c45e14bf77dac42d4f8b124280a05e6949a00d3

**ОБРАЗОВАТЕЛЬНОЕ ЧАСТНОЕ УЧРЕЖДЕНИЕ ВЫСШЕГО ОБРАЗОВАНИЯ
ПРАВОСЛАВНЫЙ СВЯТО-ТИХОНОВСКИЙ ГУМАНИТАРНЫЙ УНИВЕРСИТЕТ
(ПСТГУ)**

*Факультет информатики и прикладной математики
Кафедра экономики*

**ФОНД
ОЦЕНОЧНЫХ СРЕДСТВ
ДЛЯ ТЕКУЩЕГО КОНТРОЛЯ УСПЕВАЕМОСТИ
ПО ДИСЦИПЛИНЕ**

«Основы экономики»

48.03.01 Теология

Профиль подготовки «Систематическая теология конфессии»

Квалификация выпускника: бакалавр

Форма обучения: очная

Москва, 2021 г.

Год начала обучения по учебному плану: 2019

Фонд оценочных средств для текущего контроля успеваемости разработан на основе рабочей программы дисциплины, входящей в состав образовательной программы 48.03.01 Теология (Систематическая теология конфессии).

Тема 1: Исходные понятия теоретической экономики.

Тест 1.

1. Какая-либо вещь может быть названа благом только в том случае, если:
 - А) она редка
 - Б) она способна удовлетворять какую-либо потребность
 - В) она является собственностью конкретного человека
 - Г) все ответы правильные
2. Экономическим благам присуще:
 - А) практически неограниченное количество
 - Б) отсутствие затрат на производство
 - В) высокая рыночная цена
 - Г) необходимость затрат на производство
 - Д) неограниченный срок использования
3. Неэкономические блага характеризуются:
 - А) рыночной стоимостью
 - Б) отсутствием затрат на создание благ
 - В) ограниченным сроком использования
 - Г) наличием права собственности на них
4. В экономической теории выделяют следующие формы организации производства:
 - А) натуральное и рыночное производство
 - Б) натуральное и товарное производство
 - В) товарное и инновационное производство
 - Г) промышленное и общественное производство
5. Взаимодействие людей в процессе хозяйственной деятельности принято называть:
 - А) работой
 - Б) трудовой деятельностью
 - В) социально-психологическими отношениями
 - Г) производительными силами общества
 - Д) экономическими отношениями
 - Е) организационной основой производства
6. Экономические потребности — это:
 - А) потребности, которые могут быть удовлетворены путем потребления материальных благ или услуг
 - Б) блага, которые необходимы человеку
 - В) вещи и услуги, которые вы можете приобрести на свои ограниченные ресурсы
 - Г) природные ресурсы, капитал и труд
 - Д) правильный ответ не указан
7. Средства, необходимые для производства экономических благ, называются:
 - А) потребительскими товарами
 - Б) экономическими ресурсами
 - В) капиталом
 - Г) финансовыми инвестициями

8. Какая из нижеперечисленных потребностей человека является потребностью более высокого уровня:
- А) потребность в пище, утоление голода и жажды
 - Б) развитие собственной индивидуальности
 - В) потребность в развитии личности, своих способностей
 - Г) защищенность и безопасность
9. К какому уровню в пирамиде потребностей А. Маслоу относится потребность в социальных связях:
- А) первому
 - Б) второму
 - В) третьему
 - Г) четвертому
10. Фундаментальная проблема, с которой сталкиваются все экономические системы:
- А) инвестиции
 - Б) производство
 - В) потребление
 - Г) ограниченность ресурсов
11. Ограниченность ресурсов означает, что:
- А) в обществе они имеются в таком количестве, которого недостаточно для производства необходимых товаров и услуг
 - Б) с их помощью невозможно одновременное и полное удовлетворение всех имеющихся потребностей
 - В) ресурсов хватает только на производство предметов потребления
 - Г) не у всех людей хватает средств на их приобретение
12. Редкость ресурсов существует, потому что:
- А) в любой экономике постоянно чего-то недостаточно производится
 - Б) отдельные страны имеют неодинаковое количество ресурсов
 - В) все ресурсы в процессе использования истощаются
 - Г) ресурсов всегда недостаточно для удовлетворения всех потребностей людей
 - Д) чем меньше ресурсов, тем они дороже стоят
13. Решение вопроса, *что производить* в рыночной экономике, зависит:
- А) от цели получения максимального дохода
 - Б) от технологических возможностей производства
 - В) от правительственных заказов
 - Г) от степени конкуренции на рынке
14. Решение вопроса, *как производить*, диктуется:
- А) рекламной политикой фирмы
 - Б) отраслевой специализацией производства
 - В) стремлением предпринимателей свести к минимуму издержки производства
 - Г) рыночной конъюнктурой спроса и предложения
15. Ответ на вопрос, *для кого производить*, предполагает:
- А) создание условий для равенства в обществе
 - Б) стремление к социальной справедливости
 - В) удовлетворение потребностей людей, предъявляющих на рынке платежеспособный спрос
 - Г) удовлетворение нужд всех людей
16. Взаимосвязь между всеми возможными вариантами сочетаний факторов производства и объемом выпускаемой продукции выражается при помощи:
- А) кривой производственных возможностей
 - Б) кривой общего объема выпуска продукции
 - В) производственной функции

17. Каждая точка, лежащая на кривой производственных возможностей, представляет:
- А) минимальный объем производства в условиях полного использования ресурсов
 - Б) предельно возможный уровень использования всех видов ресурсов
 - В) максимальный объем производства двух продуктов в условиях полного использования ресурсов при данном технологическом уровне
 - Г) недостижимый объем производства двух продуктов в условиях полного использования ресурсов при данном технологическом уровне
18. Если экономика движется по выпуклой кривой производственных возможностей вправо и вниз, то это означает, что:
- А) альтернативные издержки снижаются
 - Б) альтернативные издержки увеличиваются
 - В) альтернативные издержки неизменны
19. Максимальная зависимость результата производства от использования в производстве нескольких факторов — это:
- А) кривая производственных возможностей
 - Б) производственная функция
 - В) линия общего объема выпуска продукта
 - Г) эффект масштаба производства
 - Д) величина общих затрат
20. Производственная функция позволяет оценить:
- А) уровень качества выпущенной продукции
 - Б) альтернативную стоимость факторов
 - В) пропорцию вклада факторов в общий результат производства
 - Г) величину прибыли при производстве продукта

Контрольная работа 1.

1. Дед, отец и сын занимаются сезонной заготовкой дров на продажу. За 1 месяц дед может напилить 13 м^3 дров, а наколоть — 5 м^3 . Отец может напилить 30 м^3 , а наколоть — 19 м^3 , а сын — соответственно 15 м^3 и 7 м^3 .

Постройте кривую производственных возможностей семьи.

2. Рабочий на стройке вставляет раму в окно за 2 часа, а копает траншею под кабель длиной 1 м за 15 минут. Изобразите кривую производственных возможностей рабочего в пределах 8-часового рабочего дня.

3. В стране имеются производственные возможности для создания следующей продукции:

Виды продукции	Выпуск				
	0	4	8	12	16
Компьютеры (млн шт.)	0	4	8	12	16
Ноутбуки (млн шт.)	20	15	10	5	0

Постройте кривую производственных возможностей страны.

Тема 2: История развития экономической науки.

Тест 2.

1. Исходной задачей для всех экономических систем является:

- А) обеспечение государственных доходов
- Б) гарантирование занятости
- В) балансировка экспортных и импортных потоков товаров
- Г) максимальное сокращение государственного долга страны
- Д) максимально эффективное использование ограниченных ресурсов.

2. В планово-хозяйственной (административно-командной) экономике отсутствуют:

- А) централизованно установленные государством цены
- Б) рыночная конкуренция продавцов и покупателей
- В) расслоение населения при распределении благ
- Г) ориентация на экстенсивные методы хозяйствования

3. Приверженцы какой теории рассматривали сельскохозяйственный труд как основной источник богатства?

- А) меркантилисты
- Б) физиократы
- В) классики
- Г) марксисты
- Д) монетаристы
- Е) кейнсианцы

4. Основателем теоретического учения физиократов был:

- А) Т. Ман
- Б) Ф. Кенэ
- В) А. Смит
- Г) Д. Рикардо
- Д) Т. Мор
- Е) А. Монкретьен

5. Какая экономическая школа разработала теорию предельной полезности?

- А) институционализм
- Б) меркантилизм
- В) марксизм
- Г) маржинализм
- Д) кейнсианство
- Е) физиократия

6. Теория прибавочной стоимости была разработана:

- А) Д. Рикардо
- Б) Ж.-Б. Сэем
- В) Г. Госсеном
- Г) А. Смитом
- Д) К. Марксом
- Е) Ф. Энгельсом

7. Необходимость государственного вмешательства в рыночную экономику обосновывается сторонниками:

- А) классической теории
- Б) маржинализма
- В) кейнсианства
- Г) экономического либерализма
- Д) марксизма

8. Институционализм дополнил экономическую теорию вопросами:
- А) анализа экономики в условиях хозяйственного кризиса и депрессии
 - Б) движения денег в национальной экономике
 - В) достижения макроэкономического равновесия
 - Г) взаимосвязи экономических и неэкономических процессов в социальном развитии общества
 - Д) обеспечения свободы предпринимательской деятельности
9. Позитивный метод в теоретической экономике предполагает:
- А) действия по улучшению положения дел в отдельных отраслях хозяйства
 - Б) фиксацию существующего состояния экономики
 - В) выработку рекомендаций по совершенствованию хозяйственных процессов
 - Г) разработку прогнозных экономико-математических моделей
10. Нормативный метод в теоретической экономике предполагает:
- А) выработку основных положений о том, как должна функционировать экономическая система
 - Б) отслеживание тенденций развития экономики
 - В) увязку экономических процессов, происходящих на микро- и макроэкономических уровнях
 - Г) выработку рекомендаций для развития отраслевых экономик

Вопросы к устному опросу.

1. Что является основой, побуждающей людей к хозяйственной деятельности?
2. Любую ли связь между хозяйственными процессами и явлениями можно назвать экономическим законом?
3. Перечислите три основные системы экономических отношений, охватывающие домохозяйства, фирмы и государство.
4. Раскройте содержание современной американской (англосаксонской) рыночной модели экономики.
5. К какой из известных моделей можно отнести экономику России?
6. Перечислите: в какой последовательности сменяли научные экономические школы друг друга в XVI — первой половине XX в.?
7. Можно ли кого-то из российских экономистов считать ученым, внесшим значительный вклад в мировую науку?
8. К какому направлению теоретической экономики можно отнести Ф. Кенэ и Ж. Тюрго?
9. Из каких основных разделов состоит экономическая теория?
10. Каковы функции теоретической экономической науки?
11. Назовите специальные методы и приемы изучения экономических объектов.

Тема 3: Принципы действия рыночного механизма.

Тест №3.

1. Под рынком понимают:
 - А) место, где встречаются покупатели и продавцы товаров
 - Б) экономические отношения по поводу купли-продажи товаров и услуг с использованием денег и основанные на добровольном эквивалентном обмене
 - В) сферу обращения благ
 - Г) правильный ответ не указан

2. К основным функциям рыночной экономики не относится:

- А) саморегулирующая
- Б) стимулирующая
- В) посредническая
- Г) стабилизирующая
- Д) учетная

3. К недостаткам рыночной организации хозяйства следует отнести:

- Л) конкурентную борьбу продавцов и покупателей
- Б) высокий риск ведения предпринимательской деятельности
- В) отсутствие гарантии людям права на труд и доход
- Г) чрезмерную монополизацию экономики

4. Границы рыночных отношений регулируются:

- А) общественным разделением труда
- Б) доходами агентов рынка
- В) затратами на обращение товаров и услуг
- Г) вмешательством государства в экономику

5. Цены в рыночной экономике:

- А) носят неустойчивый характер
- Б) диктуются продавцами товаров
- В) меняются под воздействием спроса и предложения
- Г) имеют постоянную тенденцию к росту

6. Экономический спрос — это:

- А) потребность иметь в своем распоряжении благо
- Б) нужда, нехватка чего-либо
- В) количество товаров, которое покупатель готов приобрести на рынке
- Г) желание обладать вещью

7. В действии закона спроса проявляется:

- А) зависимость спроса от налоговой политики государства
- Б) прямая связь между ценой и величиной предложения
- В) обратная зависимость между ценой товара и величиной спроса на него
- Г) купля-продажа всех товаров без исключения

8. Рынок товара находится в равновесном состоянии, если:

- А) объем спроса на товар равен объему предложения этого товара
- Б) на рынке не существует ни избытка, ни недостатка товара
- В) при данной цене намерения покупателей купить данное количество товара совпадают с намерениями продавцов продать то же количество товара
- Г) все ответы правильные

9. Если рыночная цена на товар выше равновесной цены:

- А) величина предложения больше величины спроса
- Б) величина спроса больше величины предложения
- В) величина спроса на товар увеличивается
- Г) производители получают максимальную прибыль

10. Мандарины и апельсины являются взаимозаменяемыми товарами на рынке. Перед Новым годом цены на мандарины резко возрастают. Как это сказывается на спрос на

апельсины:

- А) спрос на апельсины падает
- Б) спрос на апельсины растет
- В) спрос на апельсины остается прежним
- Г) спрос на апельсины сокращается, но меньше, чем на мандарины

11. Если цена товара устанавливается на рынке выше равновесной, то:

- А) возникает избыток товара
- Б) возникает дефицит товара
- В) продавцы получают дополнительную прибыль от продажи товара
- Г) покупатели будут больше тратить средств на покупку товара

12. Конкуренция — это:

- А) соперничество между участниками рыночной экономики за лучшие условия торговли и рынки сбыта
- Б) движущая сила рынка, уравнивающая цены
- В) борьба на фоне гарантий, повышения качества товаров, сервиса
- Г) все ответы правильные

13. Распространение сведений, ложных или порочащих товары конкурента — это элемент:

- А) свободной (совершенной) конкуренции
- Б) несовершенной конкуренции
- В) недобросовестной конкуренции
- Г) неценовой конкуренции

14. Совершенная конкуренция характеризуется тем что:

- А) никто из участников рынка в отдельности не может повлиять на рыночную цену
- Б) рынок доступен каждому для входа и выхода
- В) информация доступна всем в равной мере
- Г) покупатели и продавцы ведут себя рационально
- Д) все ответы правильные

15. Если выпуск и продажу на рынке контролирует несколько фирм, то подобная рыночная структура является:

- А) монополией
- Б) совершенной конкуренцией
- В) билатеральной монополией
- Г) монополистической конкуренцией
- Д) олигополией

16. Монопсония — это такая рыночная структура, при которой:

- А) товар однороден, входные барьеры на рынок отсутствуют, имеется два продавца и множество покупателей
- Б) имеется много покупателей и продавцов, входные барьеры отсутствуют, продукт различается с точки зрения покупателей
- В) на рынке имеется много продавцов и один покупатель, товар однородный
- Г) на рынке имеется один продавец и несколько покупателей

17. При росте количества единиц блага, которым может воспользоваться потребитель, общая полезность данного блага:

- А) увеличивается
- Б) сокращается

- В) не изменяется
- Г) правильный ответ не указан

18. Предельной полезностью называется удовлетворение, которое можно получить:

- А) от последней единицы потребляемого товара
- Б) от среднего количества потребляемого товара
- В) от всего количества потребляемого товара
- Г) от единицы товара наихудшего качества

19. Если растет общая полезность блага, то его предельная полезность будет:

- А) увеличиваться
- Б) сокращаться
- В) увеличиваться и сокращаться, но только как положительная величина
- Г) принимать отрицательный характер

20. Какой из следующих перечней величин общей полезности характеризует действия закона убывающей предельной полезности?

- А) 200, 300, 400, 500
- Б) 200, 400, 650, 900
- В) 200, 300, 1500, 8200
- Г) 200, 250, 280, 291
- Д) 200, 300, 350, 600

21. В соответствии с теорией потребительского поведения потребитель старается достичь максимального значения:

- А) средней полезности
- Б) предельной полезности
- В) общей полезности
- Г) разницы между общей и предельной полезностью

22. Приобретение породистого жеребца указывает на определенный тип поведения потребителя:

- А) эффект Гиффена
- Б) эффект Пигу
- В) эффект Кейнса
- Г) эффект сноба
- Д) эффект Веблена

23. Гипотеза о рациональном поведении потребителя предусматривает, что:

- А) потребитель делает только то, за что ему платят
- Б) потребитель сравнивает различные варианты, выбирая наилучший
- В) потребитель учитывает при выборе не только собственные интересы, но и общества
- Г) потребитель реализует максимум полезности в пределах своего ограниченного бюджета

24. Ординалистическое направление теории убывающей предельной полезности описывает поведение потребителя с помощью:

- А) кривой убывающего спроса
- Б) кривой средних общих издержек
- В) кривой производственных возможностей
- Г) кривой Филлипса
- Д) кривой безразличия

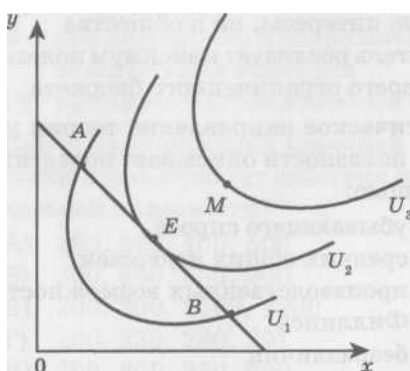
25. Бюджетная линия не изменит своего положения, если:

- А) цена товара x упадет на столько же процентов, что и цена товара y
- Б) цена товара x возрастет на столько же процентов, на сколько цена товара y упадет
- В) как цены, так и доход в той же пропорции возрастет
- Г) цены упадут, а доход в той же пропорции возрастет

26. Если потребитель выбирает набор товаров представленный точкой, лежащей вне бюджетной линии, то он:

- А) максимизирует полезность
- Б) желает приобрести товаров сверх своих возможностей
- В) находится в равновесном состоянии
- Г) не полностью использует свой бюджет

27. В какой точке графика наблюдается равновесие потребителя



- А) в точке M
- Б) в точке A
- В) в точке E
- Г) в точке B

28. Эластичность спроса по цене характеризуется отношением:

- А) процентного изменения цены к процентному изменению объема спроса
- Б) процентного изменения объема спроса к процентному изменению цены
- В) прироста цен к изменению объема спроса
- Г) увеличения цены к уменьшению объема спроса

29. Предложение, представленное на графиках вертикальной линией, является:

- А) единичной эластичностью
- Б) абсолютно эластичным
- В) абсолютно неэластичным
- Г) не является состоянием эластичности

30. Если коэффициент эластичности спроса по доходу меньше единицы, но больше нуля в отношении какого-либо товара, то это:

- А) низкокачественный товар
- Б) предмет роскоши
- В) предмет первой необходимости
- Г) правильный ответ не указан

31. В отношении каких товаров коэффициент перекрестной эластичности будет равен нулю:

- А) взаимодополняемых
- Б) взаимозаменяемых
- В) сопутствующих
- Г) независимых
- Д) все ответы правильные

Контрольная работа 2.

1. Спрос обратно пропорционален цене и равен 40 при цене 3. Найдите спрос при цене 4.
2. Функция спроса имеет вид — $Q_D = 35 - 2p$, а функция предложения — $Q_S = -15 + 3p$.
Рассчитайте цену равновесия и объем продаж.
3. Общая (TU) и предельная (MU) полезности трех товаров A , B , C , в зависимости от величины потребления Q , даны в таблице:

Количество товара Q	Товар					
	A		B		C	
	TU	MU	TU	MU	TU	MU
1		12	12		9	
2		9	22			9
3		7	30		22	
4		4	35		27	
5		2	37			4

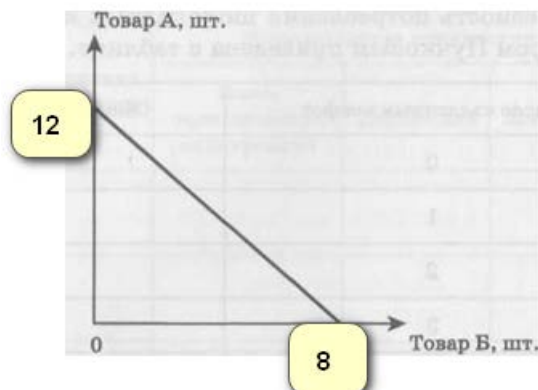
Заполните пропущенные значения в таблице.

4. Полезность потребления шоколадных конфет школьником Егором Пучковым приведена в таблице.

Число съеденных	Общая полезность	Предельная
0	80	
1	105	
2	125	
3	140	
4	152	
5	162	
6	162	
7	150	
8	130	

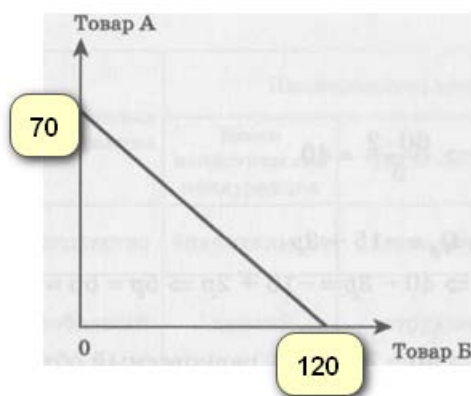
Рассчитайте предельную полезность шоколадных конфет для Егора Пучкова при каждом уровне потребления. Подтверждает ли проведенный расчет убывание предельной полезности?

5. Затраты на гардероб молодой семьи Кульковых составляет 150000 руб., а на журналы и газеты — 400 руб. Известно, что в точке равновесия потребителей предельная полезность периодической печати равна 8. Какова в этой точке равновесия предельная полезность гардероба?
6. Бюджетная линия потребителя представлена на графике следующей линией:



Определите цены товаров А и Б, если доход потребителя составляет 15000 руб.

7. Покупатель приобретает 6 пачек масла и 3 пачки чая. Найдите доход покупателя, если цена пачки масла равна 40 руб., а предельная норма замены равна 0,4.
8. На графике представлена бюджетная линия потребителя. Цена товара А составляет 30 руб. Найдите цену товара Б.



9. В результате повышения цены товара с 7 руб. до 10 руб. объем спроса понизился с 15000 руб. до 12000 руб. Определите эластичность спроса по цене.

Тема 4: Ориентация производства на рынок.

Тест 4.

1. Закон убывающей предельной производительности проявляет свое действие в условиях:
 - А) рыночной организации хозяйства
 - Б) неизменности применяемой технологии производства
 - В) фиксации факторов производства на фоне роста одного переменного
 - Г) короткого периода времени Д) всех перечисленных выше причин
2. Общий продукт характеризуется:
 - А) объемом производства с помощью всех используемых факторов производства
 - Б) приростом переменного фактора производства на фоне неизменности остальных
 - В) одновременным увеличением среднего и предельного продуктов

- Г) все ответы правильные
3. Средний продукт — это:
- А) объем производства, приходящийся на единицу постоянных факторов
 - Б) прирост производства за счет увеличения всех факторов
 - В) результат деления общего продукта на величину переменного фактора производства
 - Г) соотношение между общим и предельным продуктом
4. Предельный продукт выражается:
- А) в росте общего и сокращении среднего продуктов производства
 - Б) в сокращении общего и увеличении среднего продуктов производства
 - В) в приращении общего продукта за счет приращения переменного фактора на единицу
 - Г) в максимальном приросте общего продукта
5. Изокванта на графике иллюстрирует:
- А) кривую общего продукта
 - Б) различные комбинации результатов производства
 - В) производственную функцию
 - Г) кривую спроса на продукцию производителя
6. Предельная норма технического замещения ресурсов — это:
- А) цена замещения одним фактором производства другого в пределах неизменного объема производства.
 - Б) размер замещения одного фактора производства другим для увеличения общего выпуска производства.
 - В) соотношение факторов производства в общем объеме выпуска, обеспечивающее равновесие производителя.
 - Г) показатель, отражающий возможность компенсации ограниченного фактора производства другим, имеющимся в избытке.
7. Изокоста – это:
- А) линия, показывающая финансовые возможности фирмы по производству продукции.
 - Б) линия равных затрат.
 - В) бюджетное ограничение производителя.
 - Г) все ответы правильные.
8. Если фирма с целью расширения бизнеса взяла в банке кредит и увеличила затраты на ресурсы на четверть, получив в результате рост объемов производства на треть, то рост масштаба ее производства будет:
- А) отрицательным
 - Б) положительным
 - В) нейтральным
 - Г) неопределенным.

Вопросы к устному опросу.

1. Какие последствия может вызывать одновременное использование в производстве как фиксированных факторов, так и переменного?
2. Как рассчитать общий, средний и предельный продукты в процессе увеличения производства?

3. Что показывает на графике изокванта продукта?
4. Перечислите виды изокванты.
5. Как рассчитать предельную норму технического замещения (*MTRS*) одного фактора производства другим?
6. Что нужно сделать, чтобы рассчитать изокосту производителя?
7. Какую точку на графике можно определить, совмещая линии изокванты и изокосты?
8. Перечислите разновидности отдачи от масштаба производства.

Тема 5: Фирма в рыночном взаимодействии.

Тест 5.

1. Предпринимательство в сфере хозяйства не выполняет функцию:
 - А) экономическую
 - Б) трудовых отношений
 - В) технологическую
 - Г) самофинансирования и самоокупаемости
 - Д) доведения продукта до потребителя
2. Важнейшей целью фирмы является:
 - А) улучшение качества продукции
 - Б) повышение оплаты труда работника
 - В) расширение объема продаж своих товаров
 - Г) получение прибыли
 - Д) выпуск новой продукции
3. Предпринимательский риск — это:
 - А) вероятность потери прибыли, дохода по сравнению с ожидаемым результатом деятельности
 - Б) мотив в борьбе с конкурентами рынка
 - В) неизбежный результат неопределенности и изменчивости рыночной конъюнктуры
 - Г) все ответы правильные
4. Характерной отличительной чертой коммерческого предпринимательства является:
 - А) социальная ориентация бизнеса
 - Б) нацеленность на реализацию государственных программ экономического развития
 - В) деятельность в сфере малого и среднего бизнеса
 - Г) перепродажа произведенных и проданных товаров и услуг
5. Какая форма организации предпринимательской деятельности наиболее выгодна с точки зрения привлечения финансовых ресурсов для своего развития?
 - А) индивидуальное предпринимательство
 - Б) общество с ограниченной ответственностью
 - В) государственное унитарное предприятие
 - Г) акционерное общество
6. Отличительной чертой открытого акционерного общества является:
 - А) уставный капитал в пределах 10 млн руб.
 - Б) котировка акций на фондовой бирже

- В) распределение дивидендов только среди работников АО
Г) свободная купля-продажа акций и облигаций АО на рынке ценных бумаг
7. Источником выплаты дивидендов акционерам может быть:
- А) основной капитал акционерного общества
 - Б) средства амортизационного фонда
 - В) экономическая прибыль общества
 - Г) часть прибыли акционерного общества
 - Д) правильный ответ не указан
8. Какая из форм объединения предпринимательских структур предполагает полное подчинение единому для всех органу управления?
- А) консорциум фирм
 - Б) синдикат
 - В) холдинг
 - Г) ассоциация предприятий
 - Д) союз производителей
 - Е) трест
 - Ж) финансово-промышленная группа
9. Издержки производства составляют:
- А) финансовые расходы на приобретение факторов производства
 - Б) денежные расходы и платежи фирмы, связанные с производством продукции
 - В) расходы, которые может понести фирма в случае смены сферы приложения своего капитала
 - Г) собственные (не рыночные) ресурсы фирмы, используемые для производства продукции
 - Д) все ответы правильные
 - Е) правильный ответ не указан
10. Экономические издержки — это:
- А) затраты, которые фирма несет в результате своей производственной деятельности
 - Б) вся сумма издержек, потраченных фирмой на приобретение факторов производства на рынке
 - В) издержки при максимально выгодном способе применения затраченных ресурсов
 - Г) сумма явных и неявных издержек
 - Д) все ответы правильные
 - Е) ответы В) и Г) неправильные
11. Бухгалтерские издержки — это:
- А) издержки на приобретение сырья, материалов, полуфабрикатов
 - Б) расходы фирмы, связанные с оплатой труда управленческого аппарата и охраны фирмы
 - В) выплата процентов по банковским кредитам
 - Г) расчеты с коммунальными службами за потребленную воду, электричество, теплоэнергию
 - Д) все ответы правильные
 - Е) ответы В) и Г) неправильные
12. Деление издержек на постоянные и переменные в рамках валовых издержек распространяется только на:
- А) рынок монополистической конкуренции

- Б) краткосрочный период времени
- В) рынок совершенной конкуренции
- Г) долгосрочный период времени
- Д) все ответы правильные

13. Какое утверждение верно:

- А) бухгалтерские издержки + альтернативные издержки = экономические издержки
- Б) явные издержки - неявные издержки = бухгалтерские издержки
- В) вмененные издержки + явные издержки = альтернативные издержки
- Г) альтернативные издержки + экономические издержки = бухгалтерские издержки

14. Для того чтобы рассчитать средние валовые издержки фирмы необходимо:

- А) сложить постоянные и переменные издержки фирмы на весь выпуск продукции
- Б) разделить величину общих издержек на объем выпускаемой фирмой продукции
- В) соотнести между собой постоянные и переменные издержки фирмы
- Г) валовые издержки фирмы разделить на рыночную цену продукции

15. Законодательное увеличение минимального размера оплаты труда (при прочих равных условиях) в Российской Федерации для фирмы вызывает следующие последствия:

- А) растут постоянные издержки на единицу продукции
- Б) растут переменные издержки на единицу продукции
- В) общие издержки остаются неизменными
- Г) общие издержки на единицу продукции сокращаются

16. Предельные издержки выражают:

- А) затраты, приходящиеся на единицу произведенной продукции
- Б) максимально допустимые затраты при производстве продукции
- В) дополнительные издержки при производстве дополнительной единицы выпускаемой продукции
- Г) наиболее эффективный уровень расходования ресурсов в производстве

17. В долгосрочном периоде:

- А) все издержки выступают как постоянные
- Б) все издержки рассматриваются как переменные
- В) все предельные издержки равны нулю
- Г) средние издержки не учитываются при увеличении объемов производства.

18. Если из выручки фирмы от реализации ее продукции вычесть все затраты на приобретение факторов производства, то получится:

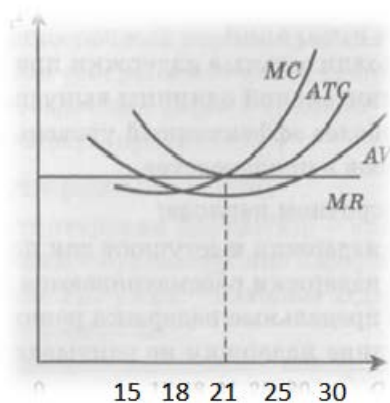
- А) валовой доход
- Б) бухгалтерская прибыль
- В) хозяйственная прибыль
- Г) нормальная прибыль
- Д) экономическая прибыль

19. Чистая экономическая прибыль получается в результате вычета:

- А) явных издержек из общей выручки фирмы
- Б) явных и неявных издержек из валового дохода фирмы
- В) бухгалтерских издержек из валового дохода фирмы
- Г) из бухгалтерской прибыли нормальной прибыли

20. Фирма будет получать максимальную величину прибыли, если достигнет равенства:

- А) цены средних издержек и среднего дохода
 Б) валовых издержек и валового дохода
 В) предельного дохода и средних издержек
 Г) цены, предельного дохода и предельных издержек
 Д) предельного дохода и предельных издержек
21. При каком объеме производства фирма, находящаяся в условиях совершенной конкуренции будет получать максимально возможную прибыль?
- А) 15;
 Б) 18;
 В) 21;
 Г) 25;
 Д) 30



Контрольная работа 3.

1. Фирма, специализирующаяся на установке дверей, в месяц выполняет заказы на 600 единиц. Средние переменные издержки фирмы при данном объеме работ равны 3000 руб., а постоянные издержки — 800 руб. Рассчитайте общие издержки фирмы.

2. 70 студентов выпускного курса университета решили отметить получение бакалаврских дипломов и арендовали для этой цели близлежащее кафе. Для финансирования праздника составили смету:

- холодные и горячие закуски — 70 тыс. руб.
- алкогольные и прохладительные напитки — 7 тыс. руб.
- музыкальное сопровождение вечера — 12 тыс. руб.
- арендная плата помещения — 20 тыс. руб.

Накануне банкета организаторы пригласили на мероприятие представителей деканата и ведущих преподавателей курса в количестве 12 человек.

Рассчитайте, как увеличились в этом случае первоначальные расчеты общих издержек у организаторов?

3. Таблица показывает зависимость общих издержек фирмы (ТС) от величины выпускаемой продукции.

Q	0	5	10	15	20	25	30	35	40
---	---	---	----	----	----	----	----	----	----

<i>ТС</i>	0	30	60	75	85	105	130	170	220
-----------	---	----	----	----	----	-----	-----	-----	-----

Рассчитайте предельные издержки:

<i>Q</i>	0	5	10	15	20	25	30	35	40
<i>МС</i>									

4. Издательский Дом «ЛИТЕРА» планирует выпустить в свет серию учебников по экономике, функция средних общих издержек имеет вид:

$$ATC = 300 + \frac{900000}{Q}$$

Где *Q* - общее количество экземпляров в подготовленной к изданию серии литературы.

Какой общий тираж книг обеспечит издательству безубыточное состояние предельной фирмы, если цена одной книги будет равна 500 руб.?

5. Индивидуальный предприниматель, владея небольшой фирмой по ремонту бытовой техники. Самому себе он установил месячную зарплату в размере 50 тыс. руб. Прибыль за месяц составила 60 тыс. руб. Вложенный в дело капитал предприниматель мог бы использовать и иначе. Например, положить свои средства в банк и получать ежемесячно проценты со вклада в размере 95 тыс. руб. или устроиться в крупную производственную компанию на работу по специальности с оплатой труда не менее 80 тыс. руб. в месяц. Определите целесообразность продолжения своего бизнеса предпринимателем.

6. Фирма «Электроприбор» выпустила продукцию объемом 15 тыс. приборов, реализовав их по цене 450 руб. за штуку. Ее общие издержки при этом составили 4 млн руб. С полученной прибыли предприятие заплатило государству налог в размере 20 %. Рассчитайте прибыль, которую получила фирма до и после уплаты налога.

Тема 6: Моделирование несовершенной конкуренции.

Тест 6.

- Тип рынка, на котором в качестве покупателя выступает лишь один хозяйствующий субъект:
 - монополия
 - естественная монополия
 - монопсония
 - билатеральная монополия
 - локальная монополия
- Фирма обладает рыночной властью, если она:
 - устанавливает цену на уровне средних общих издержек
 - устанавливает цену на уровне предельных издержек
 - присоединяется к цене лидера на рынке
 - устанавливает цену исходя из кривой спроса

3. При заданной технологии производства продукции на монополизированном рынке:
- А) продается меньший объем, чем на рынке совершенной конкуренции
 - Б) продается больший объем, чем на рынке совершенной конкуренции
 - В) продается такой же объем, как и на рынке совершенной конкуренции, но по более высокой цене
 - Г) может продаваться как больше, так и меньше продукции, чем на рынке совершенной конкуренции
4. Фирма-монополист, производящая оборудование для транспорта, реализует такой объем продукции, при котором предельный доход составляет 3600 руб., предельные издержки — 2000 руб., средние общие издержки — 4000 руб. Чтобы получить максимум прибыли, фирма должна:
- А) снизить цену и увеличить объем продаж
 - Б) повысить цену и оставить прежним объем производства
 - В) ничего не менять
 - Г) повысить цену и увеличить объем продаж
 - Д) повысить цену и сократить объем продаж
5. Продажа одной и той же продукции различным покупателям по разной цене — это:
- А) обман покупателей
 - Б) конкурентное преимущество перед соперниками на рынке
 - В) ценовая дискриминация
 - Г) неценовая дискриминация
 - Д) учет рыночной конъюнктуры
6. В какой из перечисленных ситуаций существует ценовая дискриминация?
- А) билет на посещение Эрмитажа для детей и студентов бесплатный, а билет для иностранных граждан — намного дороже, чем для взрослых граждан РФ
 - Б) вареная колбаса стоит дешевле полукопченой
 - В) ювелирные изделия из золота стоят дороже серебряных
 - Г) цейлонский чай продается по более высокой цене, чем Краснодарский
7. Экономический ущерб, наносимый обществу монополией, проявляется на рынке, по сравнению с совершенной конкуренцией, в том, что сокращаются излишки:
- А) производителя
 - Б) потребителей
 - В) факторов производства
 - Г) производителя и потребителей
 - Д) потребителей на фоне роста излишков производителя

8. Ценовую дискриминацию рынка для увеличения прибыли применяет:
- А) монополистическая конкуренция
 - Б) олигополия
 - В) монополия
 - Г) правильный ответ не указан
9. Если на рынке продается множество товаров, похожих друг на друга, но не идентичных, то такая ситуация присуща следующей рыночной структуре:
- А) олигополии
 - Б) монополии
 - В) билатеральной конкуренции
 - Г) монополистической конкуренции
 - Д) совершенной конкуренции
 - Е) олигополии

Тема 7: Факторные рынки.

Тест 7.

1. Если фактор «капитал» предоставляется во временное пользование, то его цена рассчитывается на основе:
- А) спроса и предложения
 - Б) капитальной цены
 - В) равновесной цены
 - Г) прокатной цены
 - Д) все ответы правильные
2. Ценой труда на рынке факторов производства является:
- А) прибыль
 - Б) издержки
 - В) заработная плата
 - Г) рента
 - Д) процентная ставка
3. Рыночный спрос на труд находится в прямой зависимости от:
- А) спроса на товары и услуги, созданные наемными работниками
 - Б) производительности и интенсивности труда работников
 - В) сложившегося уровня заработной платы в отрасли
 - Г) величины предельного продукта, создаваемого трудом
 - Д) сравнения дополнительных затрат на наем работника и приобретение оборудования
4. График кривой спроса на фактор «труд» отражает зависимость между:
- А) размерами оплаты труда и спроса на рабочую силу
 - Б) количеством нанятой рабочей силы и количеством произведенной ею продукции
 - В) эффектами замены и дохода на рынке труда
 - Г) заработной платой и предельной производительностью работников
5. На рынке труда устанавливается равновесие, когда:

- А) величина спроса на труд равна количеству занятых в экономике
 - Б) величина предложения труда равна количеству работающих
 - В) предельный продукт труда равен цене спроса на труд
 - Г) предельный продукт труда равен цене предложения труда
 - Д) денежная оценка предельного продукта труда равна номинальной ставке заработной платы
6. Размер номинальной заработной платы показывает:
- А) потребительский уровень работника
 - Б) степень благосостояния людей
 - В) уровень заработной платы
 - Г) размер реального дохода человека
 - Д) прожиточный минимум населения
7. Реальная заработная плата выражается:
- А) в деньгах, получаемых работником на руки
 - Б) в количестве товаров и услуг, приобретаемых на номинальную заработную плату
 - В) в сумме денег, которую работодатель перечисляет государству за работника в социальные фонды и выплачивает самому работнику
 - Г) все ответы правильные
8. Реальную заработную плату можно измерить с помощью:
- А) производительности труда
 - Б) доли зарплаты в общем доходе фирмы
 - В) напряженности труда
 - Г) индекса цен
9. Ставки оплаты наемного труда в рыночной экономике определяются:
- А) производительностью труда
 - Б) соотношением спроса и предложения на рынке труда
 - В) действием коллективного договора между администрацией и работниками
 - Г) нормативами выработки продукции в единицу времени
10. Предположим, фирме необходимо в ближайшее время значительно увеличить объем производства продукции с целью извлечения дополнительной прибыли на рынке. Какая из форм оплаты труда будет в этом случае наиболее уместна?
- А) повременная зарплата
 - Б) аккордная зарплата
 - В) сдельная зарплата
 - Г) участие работников в прибылях фирмы
11. Субъектами рынка капиталов являются:
- А) банки и их клиенты
 - Б) биржи (фондовые)
 - В) государство
 - Г) корпорации и частные фирмы
 - Д) все ответы правильные
12. Рыночное предложение фактора «капитал» в экономике осуществляют:
- А) фирмы
 - Б) государство
 - В) домохозяйства
 - Г) иностранный капитал

13. Возвратность, срочность, платность и гарантированность заемных средств присущи:
- А) финансовым отношениям
 - Б) экономическим отношениям
 - В) кредитным отношениям
 - Г) международным отношениям
 - Д) валютным отношениям
14. Если капитал передать в ссуду, то доход, получаемый от него, принято называть:
- А) маржой
 - Б) рентой
 - В) процентом
 - Г) банковской прибылью
15. Реальная ставка процента рассчитывается как:
- А) отношение номинальной ставки процента к величине инфляции
 - Б) разница между номинальной процентной ставкой и темпом инфляции
 - В) отношение прибыли к вложенному капиталу
 - Г) сумма номинальной ставки процента и уровня инфляции
16. Земля как фактор производства отличается от всех остальных тем, что:
- А) ее предложение на рынке жестко ограничено и неэластично
 - Б) она свободно воспроизводится
 - В) имеет ограниченный срок использования
 - Г) на нее не влияет инфляция
17. Цена земли находится под влиянием:
- А) спроса и предложения земли
 - Б) величины земельной ренты
 - В) ставки ссудного процента
 - Г) предпринимательского риска
 - Д) инфляции
 - Е) всех перечисленных факторов
18. Рента — это доход:
- А) от предоставления капитала в ссуду
 - Б) владельца акции
 - В) землевладельца
 - Г) за предоставление в пользование станков, машин, оборудования
 - Д) все ответы правильные
19. Арендная плата за земельный участок состоит из:
- А) рентных платежей собственнику земли
 - Б) амортизационных отчислений за пользование сооружений и построек, имеющих на арендованной земле
 - В) ссудного процента за право пользования землей
 - Г) все предыдущие ответы правильные
 - Д) правильные ответы А) и Б)
20. Получение дифференциальной (разностной) ренты связано с:
- А) различием местоположения участков земли
 - Б) различием в плодородии почвы
 - В) различием в природно-климатических условиях хозяйствования на земле
 - Г) все ответы правильные

- Д) правильные ответы А) и В)
21. Какой вид ренты возникает только на лучших и средних землях?
- А) дифрента I
 - Б) дифрента II
 - В) дифрента I и II
 - Г) абсолютная рента
 - Д) монополярная рента
 - Е) все ответы правильные
22. Кому достается дифференциальная рента II?
- А) собственнику земли
 - Б) предпринимателю-арендатору
 - В) арендодателю и арендатору
 - Г) государству
 - Д) все ответы правильные
23. Дифференциальная рента II возникает при:
- А) экстенсивном типе ведения хозяйства
 - Б) интенсивном типе ведения хозяйства
 - В) увеличении объемов производства сельхозпродукции
 - Г) увеличении цен на сельхозпродукцию
 - Д) правильный ответ не указан

Контрольная работа 4.

1. Подсчитайте полные затраты на древесину, заготовленную в 2018 г., если известно, что непосредственно на ее заготовку в 2017 г. было затрачено 500 тыс. руб., на подготовительные работы в 2018 и 2019 гг., соответственно, 350 и 450 тыс. руб. и на рекультивацию земельного участка в 2021 г. будет затрачено 435 тыс. руб. Ссудная ставка процента в указанные годы — $i = 15\%$.
2. Рассчитайте капитальную цену экскурсионного автобуса, если в течение четырех лет он приносит фирме чистый годовой доход в размере 300 тыс. руб., 352 тыс. руб., 348 тыс. руб. и 335 тыс. руб. По итогам 4-годичной эксплуатации его ликвидационная стоимость составила 185 тыс. руб. Годовая ставка процента — 20% .
3. Прокатная цена плодородного участка земли за год использования *составляет 740 тыс. руб.*, а ставка процента за этот же период — 15% . Чему равна капитальная цена земельного участка?
4. Номинальная заработная плата в стране за прошедший год из-за наступившего экономического кризиса, развития инфляционных процессов повысилась на $7,4\%$, а реальная сократилась на $6,7\%$. Как изменилась стоимость жизни в стране за прошедший год?
5. Банк предоставил ссуду акционерному обществу в 60 млн руб., получив годовой доход от этой операции в размере 9 млн руб. Определите размер ссудного процента.
6. Если вы хотите взять в банке кредит в размере 700 тыс. руб. под 18% годовых сроком на 2

года, то в какую итоговую сумму обойдется эта финансовая сделка?

7. Пенсионер положил на годовой срочный вклад 45 тыс. руб. Темп инфляции за год составил 18 %, а номинальная ставка процента не изменялась в течение этого периода и составила 20 % годовых. Чему равна реальная стоимость сбережений пенсионера по истечении срока вклада?
8. Молодая семья получила в наследство от бабушки 120 тыс. руб. и думает, как ей ими распорядиться: потратить на текущие нужды или отложить на будущее. Если деньги положить в банк, то через год можно будет снять со счета 150 тыс. руб. Однако инфляция за этот период составит 20 %. Рассчитайте номинальную ставку процента, которую банк предлагает вкладчикам, и реальную ставку, под которую молодая семья положит свои средства.
9. Спрос на землю описывается уравнением $Q = 400 - 6R$, где Q — площадь земли (га); R — арендная плата (млн руб.). Определите цену 1 га земли при условии, что $Q = 340$ га, а ссудный процент — 30 % годовых.
10. Какова будет цена земельного участка, если собственник земли в год получает с арендатора 1,5 млн руб. земельной ренты, а ссудный процент находится на уровне 25 % годовых?
11. Фермер, ведущий хозяйство на арендованной земле, получил 30 % прибыли на вложенный в бизнес капитал величиной в 6 млн руб. Валовой доход после продажи произведенной продукции составил 4 млн руб. Найдите величину ренты, которую арендатор передает собственнику земли.
12. Определите величину арендной платы за земельный участок. В него инвестировано капитальных средств на 12 млн руб. Ожидаемый период окупаемости затрат — 12 лет. Рента с участка равна 1,5 млн руб. в год, а банковский процент равен 25 % годовых.
13. Чему будет равняться дифференциальная рента, получаемая с земельного участка, если с него взимается арендная плата в размере 1,8 млн руб., абсолютная земельная рента за этот участок земли составляет 195 тыс. руб. На участке имеется оросительная система стоимостью 3 млн руб., которая рассчитана на эксплуатацию в течение 15 лет. Норма ссудного процента 30% годовых.

Требования к выполнению форм текущего контроля и критерии оценивания их результатов.

Тест – система стандартизированных вопросов (заданий) позволяющих автоматизировать процедуру измерения уровня знаний и умений обучающихся. Тесты могут быть аудиторными и внеаудиторными.

В каждом вопросе теста студент должен выделить, по его мнению, один правильный ответ.

Максимальная оценка за тестирование: 5 баллов.

При оценивании тестирования учитывается правильность ответов на вопросы.

- Тест выполнен на 20% - 30% - 2 балла.
- Тест выполнен на 30-50% - 3 балл.
- Тест выполнен на 50-80% - 4 балла.
- Тест выполнен на 80-100% - 5 баллов.

Контрольная работа – промежуточный метод проверки знаний умений и навыков, усвоенных студентами, предполагающий выполнение определенных заданий без помощи преподавателя.

Написание контрольной работы призвано оперативно установить степень усвоения студентами учебного материала дисциплины и формирования соответствующих компетенций. Умение студентами решать задачи, предложенные в контрольной работе, должно показать знание теории вопроса и практического ее разрешения.

Контрольная работа выполняется в письменном (печатном) виде, в срок, установленный преподавателем.

Максимальная оценка за контрольную работу 5 баллов.

При оценивании контрольной работы учитываются полнота выполнения заданий, обоснованность содержания и выводов, наличие и количество ошибок и неточностей. Ответы ранжируются по следующей шкале:

- задание выполнено не полностью и/или допущены две и более ошибки или три и более неточности – 2 балла;
- задание выполнено полностью, рассуждения верны, но обоснование содержания и выводов недостаточны и/или имеется одна ошибка или две неточности – 3 балла;
- работа выполнена полностью, в рассуждениях и обосновании нет пробелов или ошибок, возможна одна неточность – 4-5 баллов.

Опрос – занятие в форме беседы преподавателя с учащимися с целью проверки и оценки их знаний.

Фронтальный опрос проводится в форме беседы преподавателя с группой; его достоинство в том, что в активную умственную работу можно вовлечь всех учащихся. Он органически сочетается с повторением пройденного материала, являясь средством для закрепления знаний и умений. Для этого вопросы должны допускать краткую форму ответа, быть лаконичными, логически увязанными друг с другом, даны в такой последовательности, чтобы ответы студентов в совокупности могли раскрыть содержание раздела, темы.

Индивидуальный опрос проводится в форме беседы преподавателя со студентом. Вопросы должны быть четкими, ясными, конкретными, емкими, иметь прикладной характер, охватывать основной, ранее пройденный материал программы. Их содержание должно стимулировать студентов логически мыслить, сравнивать, анализировать сущность явлений, доказывать, подбирать убедительные примеры, устанавливать причинно-следственные связи, делать обоснованные выводы и этим способствовать объективному выявлению знаний.

Максимальная оценка за устный опрос 4 балла.

При оценивании ответа на устных опросах суммарно учитываются: знание теории по конкретному вопросу (3 балла) и качество изложения материала (грамотность речи, точность использования терминологии, логическая последовательность изложения) (1 балл).

Автор Сеченова Маргарита Владиславовна, кандидат экономических наук.

Одобрено на заседании кафедры экономики от «31» августа 2021 года, протокол №1.